

Марафон знаний 2021

Математика 2 класс



Задание 1. Разминка

1. Из-за забора видны четыре заячьих уха. Сколько зайцев за забором? **Ответ:** _____
2. Какое число задумал Серёжа, если оно на один больше шести и на один меньше восьми? **Ответ:** _____
3. Сколько раз кукарекает курица, когда снесла яйцо? **Ответ:** _____

Задание 2. Впиши в пустые клеточки пропущенные цифры.



4	+		=	7
-		-		-
	+	1	=	
=		=		=
3	+		=	5

Задание 3.

Реши примеры и напиши ответы.

$$\begin{array}{ccccccc}
 \text{Penguin} & - & \text{Penguin} & + & \text{Penguin} & - & \text{Penguin} & = & \square \\
 20 & - & 10 & + & 8 & - & 4 & = & \square \\
 \text{Penguin} & + & \text{Penguin} & - & \text{Penguin} & - & \text{Penguin} & = & \square \\
 11 & + & 3 & - & 6 & - & 7 & = & \square
 \end{array}$$

Задание 4. Отгадай загадку. Не овальный и не круглый. С треугольником я дружный. Прямоугольнику как брат. Называюсь я – _____.

Задание 5. В зоопарке живёт столько жёлтых попугаев, сколько и голубых. Голубых столько же, сколько и красных. Посчитай сколько всего попугаев, если красных три.

Ответ: _____

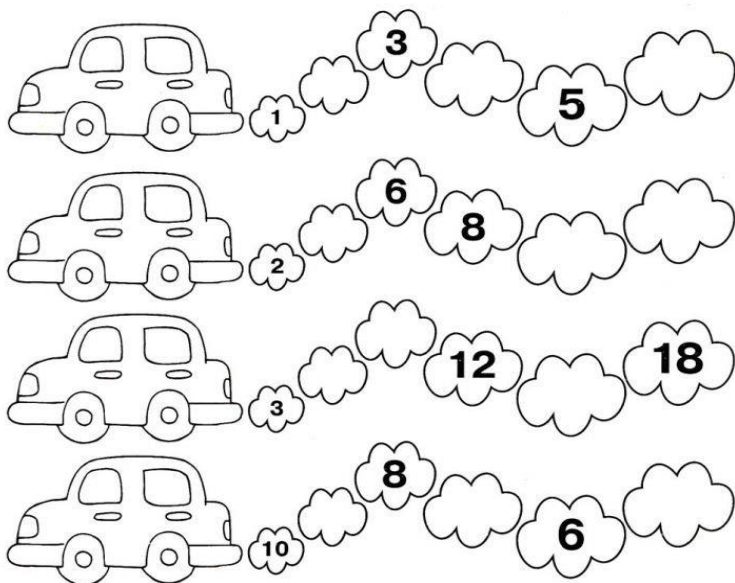
Задание 6. У бабушки живут три кошки – кошка Мурка, кошка Клава и кошка Лиза. Обычно они спят на трёх разных подушках – жёлтой, розовой и синей. Кошка Клава любит спать на розовой подушке. Кошка Мурка никогда не выбирает ни розовую, ни синюю. Подумай и скажи, на какой подушке чаще всего спит кошка Лиза?

Ответ: _____

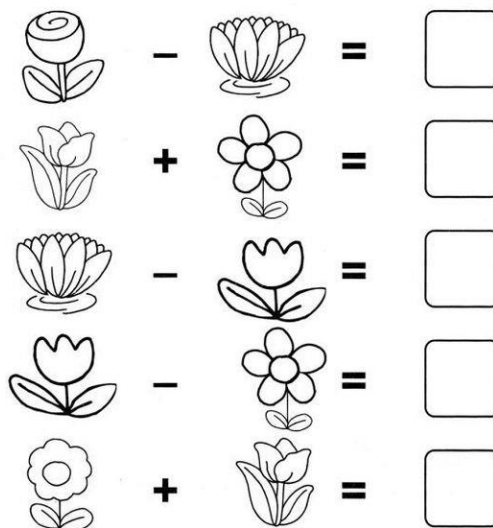
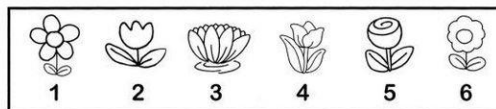
Задание 7. От домика Великана до домика Крошки 5 великаньих шагов, а от домика Крошки до домика Великана 10 крошкиных шагов. Укажи, кому дальше идти в гости.

Ответ: _____

Задание 8. Смешные автомобильчики.
Угадай последовательности и впиши пропущенные числа.



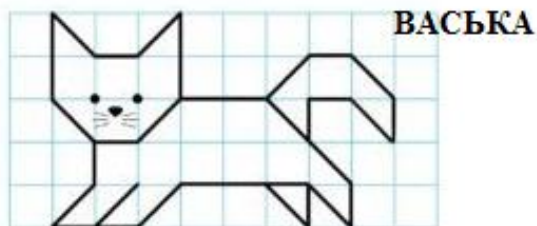
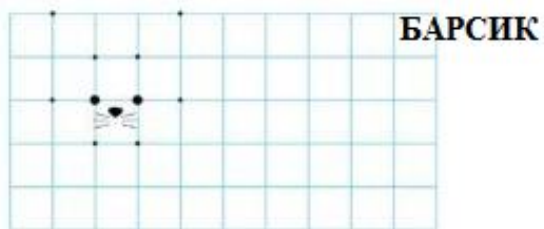
Задание 9. Цветочная считалочка. Реши примеры, пользуясь подсказкой в рамке.




Задание 10. У какой девочки самые светлые волосы, если волосы у Риты темнее, чем у Зои, а у Зои темнее, чем у Веры? Укажи имя девочки.

Ответ: _____

Задание 11. Барсик очень похож на своего дружка – котика Ваську. Нарисуй Барсика на клеточках. Начни с мордочки.



Задание 12. Дорисуй последний рисунок, соблюдая заданную закономерность.




Ответы 2 класс (всего 51 балл)

Задание 1. Разминка (3 балла)

1. **Ответ:** 2
2. **Ответ:** 7
3. **Ответ:** ни разу

Задание 2. 8 баллов
(2 б + 2 б + 2 б + 2 б)



Задание 3. 4 балла (2б. + 2б.)

$$\begin{array}{cccccc} \text{Penguin with 20} & - & \text{Penguin with 10} & + & \text{Penguin with 8} & - & \text{Penguin with 4} & = & \boxed{14} \\ \text{Penguin with 11} & + & \text{Penguin with 3} & - & \text{Penguin with 6} & - & \text{Penguin with 7} & = & \boxed{1} \end{array}$$

Задание 4. Отгадай загадку (1 балл)

Ответ: квадрат

Задание 5. (3 балла)

Ответ: 9 попугаев

Задание 6. (3 балла)

Ответ: на синей

Задание 7. (3 балла)

Ответ: одинаково

<p>Задание 8. 12 баллов (1 б. за каждую цифру)</p>	<p>Задание 9. (5 баллов)</p> $\text{Rose} - \text{Lotus} = \boxed{2}$ $\text{Tulip} + \text{Daisy} = \boxed{5}$ $\text{Lotus} - \text{Tulip} = \boxed{1}$ $\text{Tulip} - \text{Daisy} = \boxed{1}$ $\text{Daisy} + \text{Tulip} = \boxed{10}$
---	---

Задание 10. (2 балла)

Ответ: у Веры

<p>Задание 11. 3 балла – полностью верное изображение 2 балла – изображение выполнено с незначительными погрешностями (1-3) 1 балл – изображение выполнено частично</p> <p>БАРСИК</p> <p>ВАСЬКА</p>	<p>Задание 12. (5 баллов) 8 лепестков – 1 балл 4 листика – 1 балл 4 треугольника – 1 балл 6 точек у коровки – 2 балла</p>
--	--

